

## Katolikus Iskolák Takáts Sándor Országos Történelmi Versenye

### Vitéz János Katolikus Iskola

Levelezési cím: 2500 Esztergom Helischer u. 5. Telefon 06-33- 413-911 (Titkárság)

E-mail: [vitezjanos@vitezjanos.hu](mailto:vitezjanos@vitezjanos.hu)

---

A beküldő iskola hosszú bélyegzője, vagy postacíme:

---

A beküldő csapat neve: .....

## **Trianon centenáriuma és a nemzeti összetartozás éve**

Történelmi vetélkedő 2019/2020

### **III. forduló**

Maximálisan elérhető pontszám: 

<b>121</b>
------------

 pont

Elért pontszám: 

--

 pont

Helyezés 

--

Visszaküldési határidő: **2020. február 14.**

## **Feladatok**

### **1. feladat**

Készítetek meghívót a békekonferenciára! A technikát és az alapanyagot szabadon választhatjátok, a mérete A/4-nél nem lehet nagyobb!

<b>10 pont</b>	
----------------	--

### **2. feladat**

Készíts gondolattérképet a trianoni békeszerződés nemzetiségi következményeiről!  
(A gondolattérkép mérete A/3 legyen.)

<b>15 pont</b>	
----------------	--

### 3. feladat

Válaszoljatok az alábbi kérdésekre a megadott információk alapján, melyek korabeli történelmünk egyik fontos helyszínére vonatkoznak!

1. 2016 decemberében döntött a kormány arról, hogy a Corvin-lánc testület tulajdonába kerül a főváros XIV. kerületében a Róheim-villa.
2. Az 1900-ban épült épületet a második világháború után az ÁVH használta egy ideig, majd 1991-ig mozgássérült gyerekek iskolaotthona volt.



- a) Mi a pontos cím?.....
- b) Melyik neves politikusunk lakott itt?.....
- c) Mi történt ezen a helyen?.....
- d) Az esemény dátuma:.....
- e) Hogyan szól a fenti eseményhez köthető híres mondat?

.....  
.....

<b>5 pont</b>	
---------------	--

#### 4. feladat

Írd le az alábbi fogalmak jelentését 1-2 mondattal!

**Autoriter**

.....  
.....  
.....

**Dekrétum**

.....  
.....  
.....

**Demarkációs vonal**

.....  
.....  
.....

**Proletár diktatúra**

.....  
.....  
.....

**Protekcionista**

.....  
.....  
.....


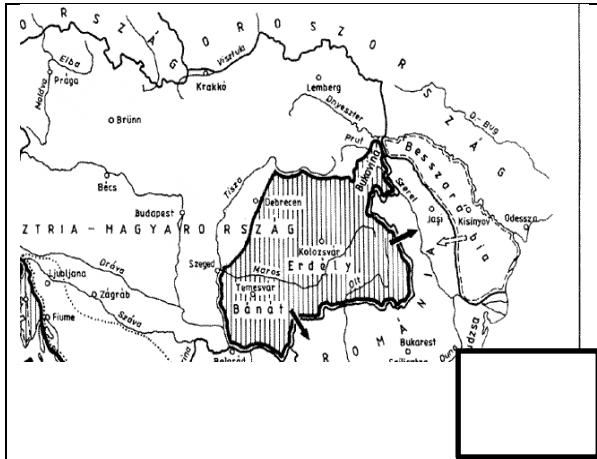
**Soviniszta-irredenta**

.....  
.....  
.....

## 5. feladat

Melyik térképhez kapcsolnátok leginkább az alábbi megnevezéseket, leírásokat?  
Írjátok a betűjeleket a megfelelő térkép szövegdobozába! Minden helyre két betűjel kerülhet!

- a A magyarság százalékos aránya Magyarország kistérségeiben 2001.
- b 1919. március 20-án kézbesítették.
- c Hazánk talán legismertebb etnikai térképe.
- d Az antant ígérete.
- e A Vix-jegyzékben javasolt semlegességi övezet.
- f Magyar városok etnikai összetétele 1910-ben és 2010-ben.
- g Teleki Pál vörös térképe.
- h A Magyar Szent Korona országainak etnográfiai térképe az 1880. évi népszámlálás adatai alapján.
- i „...nyugodtan megüzenheti a küldőnek, hogy menjen egyenest a pokolba.”



6 pont

## 6. feladat

Ki látható a képen? Húzd alá!



a, gróf Széchenyi István

b, Sirius Black

c, Linder Béla

d, gróf Apponyi Albert

Karikázd be azokat a számokat, amelyek igazak a képen látható személy életére!

1. Olasz anyanyelven nőtt fel.
1. Ferenc József tanácsadója volt.
9. A Nemzeti Újságban „treuga Dei”-t hirdetett karácsony napján.
8. Nem vállalta el a békeküldöttség elnöki rangját.
3. A megértés és kiengesztelődés politikáját hirdette.
3. 1924-ben a magyar delegáció vezetője volt a Népszövetség közgyűlésén.
2. Angolul, franciául, olaszul és németül is olyan ékesszólóan szónokolt, mint magyarul.
6. Kereken 100 évig élt.
7. A Budapesti Ügyvédi Kamara tagjává választották 1919. novemberében.

Amennyiben jól dolgoztál, fentről lefelé olvasva egy számsort láthatsz, mely egy dátumot jelöl. Mi történt ezen a napon, a képen látható személlyel? Válaszold meg!

---

8 pont	
--------	--

## 7. feladat

Számozással állítsd időrendi sorrendbe az alábbi eseményeket!


- Gróf Apponyi Albert újra megsürgette a Legfőbb Tanács bizottságainak kiküldetését a megszállott területekre.
- A miniszterelnök a „Conférence des ambassadeurs”-höz fordul.
- Gróf Apponyi ismét megsürgeti a románok által elvitt vasúti kocsik és felszerelések visszaadását.
- Praznovszky követ átadta a delegátusok megbízóleveleit.
- Vizsgálóbizottság delegálása Nyugat-Magyarországra, és az antant vizsgálóbizottság kiküldése a csehek, románok és szerbek által megszállott területekre is.
- Békekonferencia titkársága engedélyezte, hogy a franciaországi magyar hadifoglyokat a béke megkötése előtt hazaszállítsák.
- A Békeszerződés eredeti szövegén lényeges változás nem történt, sikereket csak a vízügy és a műemlékek kérdésében értek el, valamint némi kilátás a rutén kérdés igazságos megoldására.
- A delegáció vonata reggel megérkezett a Gare de l'Est-re.
- Praznovszky követ Budapestre utazott a végleges békefeltételekkel.
- Plenáris ülés összehívása Budapesten.
- A nagyteremben összegyűlt a 22 hatalom képviselője. Kanada, Ausztrália, Új-Zéland, India és Dél-Afrika külön képviseltettek. A két magyar főmegbízott elfoglalta kijelölt helyét a patkó alakú asztalnál, szemben a portugáli küldöttekkel. Ekkor Millerand elnök felszólította őket, hogy a megállapított szerződést írják alá.

<b>11 pont</b>	
----------------	--

## 8. feladat

Készítsetek leírást a képhez, a megadott szempontok alapján!

- Szerepeljen benne a képen látható férfi neve,
- születésének és halálának időpontja,
- összes politikai szerepvállalása,
- legyen benne olvasható két egymástól időben eltérő, de egymással és megadott korszakunkkal összefüggő esemény,
- fogalmazzatok meg véleményeteket a fentiekkel kapcsolatos tevékenységéről!



---

---

---

---

---

---

---

---

---

---

<b>10 pont</b>	
----------------	--

## 9. feladat

Igaz vagy hamis?

- ..... Magyarország elveszítette területének kétharmadát és lakosságának ötvenkét százalékát.
- ..... A békeszerződés megtiltotta az országnak az Ausztriával való egyesülést, ezáltal pedig a Habsburg-ház restaurációját.
- ..... Nem engedélyezték többé Magyarországnak sem harci repülőgépek, sem hadihajók, sem pedig páncélosok gyártását vagy vásárlását, és le kellett mondania az országnak a tiszai flotilláról is.
- ..... Magyarország köteles volt fizetni a szomszédos országok közül Jugoszláviának, Romániának és Görögországnak is.
- ..... Románia 103 ezer négyzetkilométert kapott, Csehszlovákia 62 ezer négyzetkilométert, a Szerb-Horvát Szlovén Királysághoz 20 ezer négyzetkilométert, Ausztria pedig 4 ezer négyzetkilométert.
- ..... A békeszerződést tartalmazó 1921. évi XXIII. törvénycikket 1921. július 26-án hirdette ki a magyar országgyűlés.
- ..... Sokan sérelmezték a nemzetiségek szószólói közül azt is, hogy a törvényhozás mellett a közigazgatás hivatalos nyelvénél kizárólagosan a magyar nyelv vált.
- ..... A győztesek a „Vae victis”, azaz a „Jaj a legyőzötteknek” elvét alkalmazták.
- ..... A világ új rendjéről döntők nem a nemzetiségi önrendelkezésekben képelték el a jövőt.
- ..... A teljes revízió programjának megfogalmazói minden elcsatolt terület visszaszerzését óhajtották, az etnikai revízió támogatói pedig az új országhatárok melletti magyarok által többségében lakott területekét.
- ..... A legsúlyosabb veszteség a magyar nemzetiségű lakosság elvesztése volt, akiknek a száma 3,2 millióra becsülhető, amely a lakosság 30%-át tették ki.

<b>11 pont</b>	
----------------	--





## 11. feladat

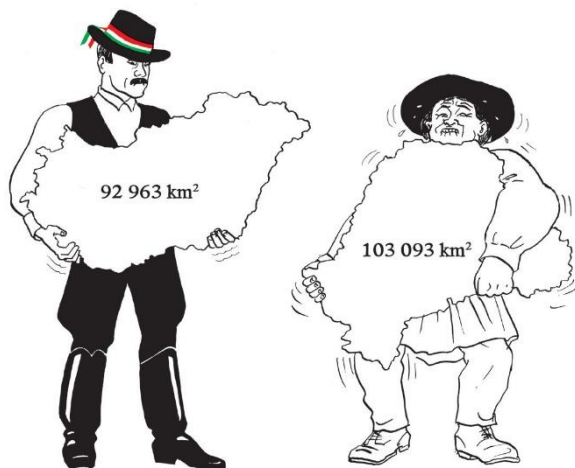
A következő képek Jankovics Marcell alkotásai.  
Adj nekik találó, kreatív, odaillo címet!



a, \_\_\_\_\_  
\_\_\_\_\_



b, \_\_\_\_\_  
\_\_\_\_\_



c, \_\_\_\_\_  
\_\_\_\_\_



d, \_\_\_\_\_  
\_\_\_\_\_

8 pont	
--------	--

## 12. feladat

A következő feladathoz kreativitásodra és a magyarságodra való büszkeségedre lesz szükséged.

Képzeld el azt, hogy találkozol egy ismerősséddel, akivel hosszasan beszélgettek az élet mindennapi eseményeiről, majd rátértek a történelemre és azon belül is Trianon kérdéskörére.

Ismerősöd egyszer csak felteszi neked azt a váratlan kérdést, hogy:

**- Neked mi közöd van Trianonhoz, ma?**

Mit felelsz? → Foglald össze néhány mondatban!

---

---

---

---

---

---

---

---

---

15 pont	
---------	--